

# CONCURSUL ȘCOLAR DE GEOGRAFIE, ETAPA NAȚIONALĂ

## LUCRARE SCRISĂ LA PROBA PRACTICĂ 21 APRILIE 2003

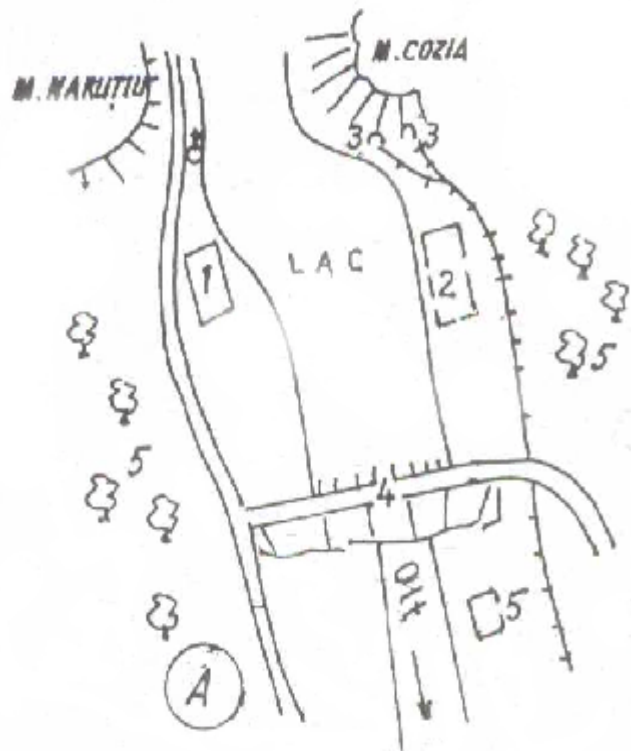
### Clasa a XII-a

Toate subiectele sunt obligatorii. Timp de lucru: 1 oră

#### Subiectele:

1. Explicați complexitatea peisajului natural și antropic la ieșirea Oltului din defileu (desenul 1).

(5 puncte)



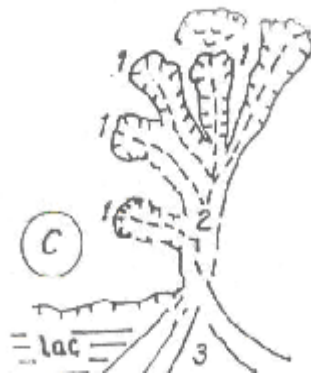
2. Treptele de relief, procesele geomorfologice și utilizarea terenurilor pe un profil transversal la Vidra. Identificați elementele marcate pe profilul de mai jos și scrieți, pe foaia de concurs, semnificația acestora, în dreptul inițialelor corespunzătoare.

(6 puncte)



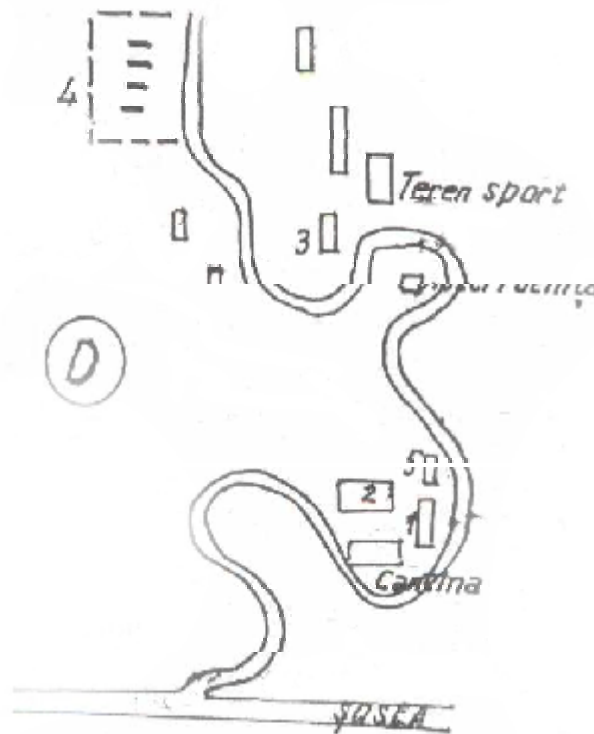
3. Caracterizați specificul morfodinamicii de versant în aval de barajul de la Brădet.

(4,5 puncte)



4. Precizați cele cinci componente ale patrimoniului turistic din stațiunea Voineasa.

(5 puncte)



5. Precizați formele de relief pe care se află cabana și bazinele păstrăvăriei în sectorul vizitat.

(2 puncte)